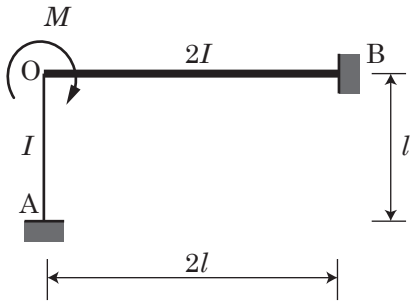


第1課題

不静定力学Ⅱ・同演習 第1回演習問題

1


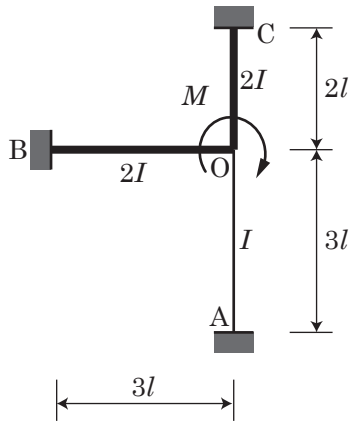
【第1課題】下の構造物の曲げモーメントをたわみ角法を用いて求めよ。ただし、 E は一定として、 I は図の通りとする。



M 図

第 1 課題

【第 1 課題】下の構造物の曲げモーメントをたわみ角法を用いて求めよ。ただし、 E は一定として、 I は図の通りとする。



M 図

確認印

学籍番号 _____ 氏名 _____