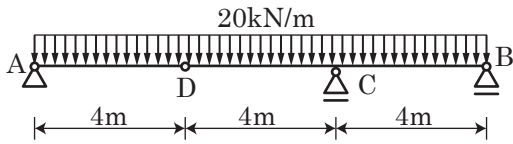



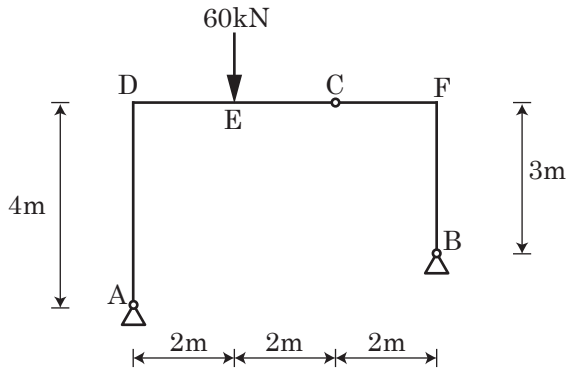
(1) ゲルバー梁の応力を求め、応力図を図示しなさい。



_____ Q 図

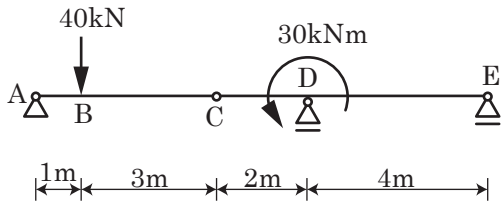
_____ M 図

(2) 3 ヒンジラーメンの曲げモーメントを求め、応力図を描きなさい。



M 図


(1) ゲルバー梁の応力を求め、応力図を図示しなさい。



_____ Q 図

_____ M 図

学籍番号 _____ 氏名 _____



(2) 3 ヒンジラーメンの曲げモーメントを求め、応力図を描きなさい。

