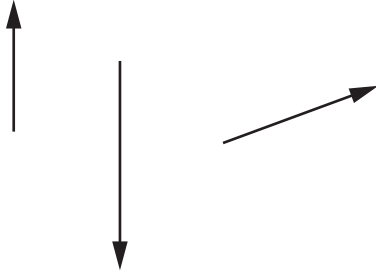


(1) 連力図と示力図を利用して釣り合い力を求めなさい。

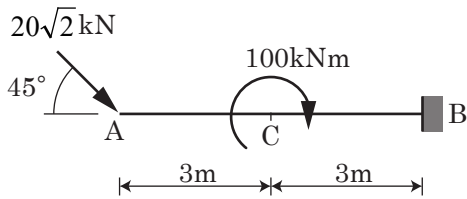
示力図を破線の枠内に作図。



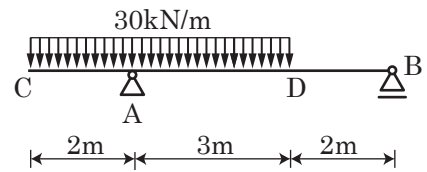
(2) 梁の反力を求めなさい。

単位と向きを書くこと。

(1)



(2)



(3) 構造物の反力を求めなさい。

単位と向きを書くこと。

